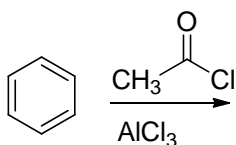
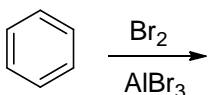
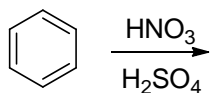


第9回 7章 芳香族性およびベンゼンの反応 (その2)

(1) ピロールとピリジンでは、どちらの方が強い塩基性を示すか。



(2) 次の反応の生成物とメカニズムを記せ。



(3) 次の芳香族化合物のうち、求電子置換反応を受けやすいのは、どちらか？  
また、その理由を説明せよ。

