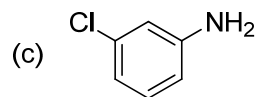
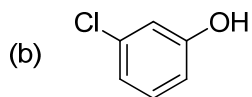
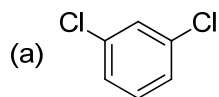
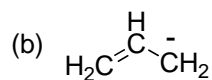
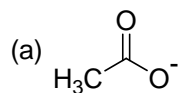


第8回 7章 芳香族性およびベンゼンの反応 (その1)

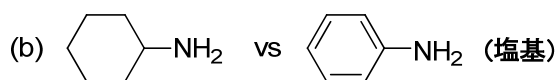

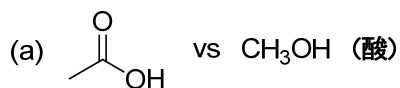
(1) 下の化合物を命名せよ。



(2) 下の化学種の共鳴寄与体と共鳴混成体を記せ。



(3) 下の組み合わせのうち、酸あるいは塩基として強いのはどちらか。また、それはなぜか？



(4) 次の環状化合物のうち、芳香族化合物に分類されるものはどれか。

