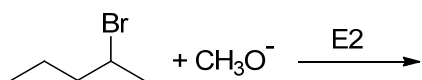
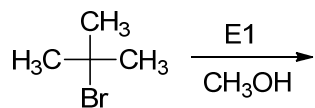
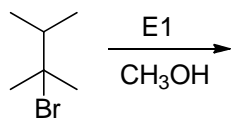


第3回 8章 ハロゲン化アルキルの置換反応と脱離反応 (その3)

(1) 次の E1 脱離と E2 脱離の生成物と反応メカニズムを記せ。



(2) 次の E1 脱離の生成物と反応メカニズムを記せ。



(3) 次の E2 脱離の生成物と反応メカニズムを記せ。

