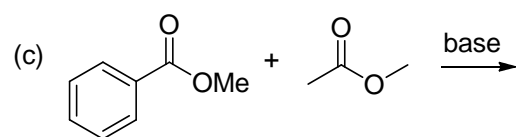
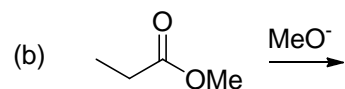
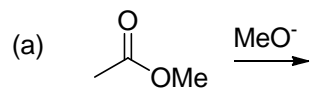


第 14 回 13 章 カルボニル化合物の  $\alpha$  炭素の反応 (その 2)

(1) 下の反応の生成物とメカニズムを記せ。



(2) 下の反応の生成物とメカニズムを記せ。

