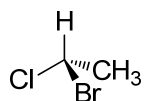


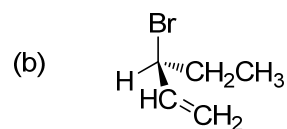
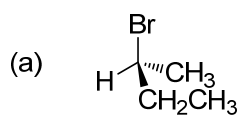
第9回 4章 異性体：原子の空間配置 その1

予習

(1) 次の化合物の不斉炭素に*を付し、立体配置を R あるいは S で記せ。また、また、鏡像体を記せ。



(2) 次の化合物の立体配置を R, S で表せ



(3) 2,3-dibromobutane のすべての立体異性体を記せ。

また、不斉炭素に*を付し、立体配置を R, S で記せ。