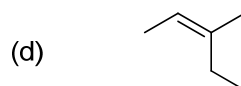
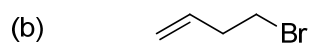
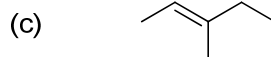


第8回 4章 異性体：原子の空間配置 その1

予習

(1) 次の化合物を命名せよ。



(2) 次の幾何異性体のうちで、沸点が高いのはどちらか。



(3) 次の幾何異性体はそれぞれ、E異性体、Z異性体のどちらか。

