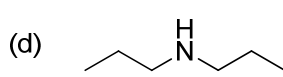
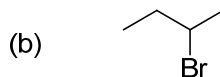
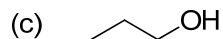
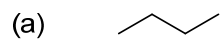


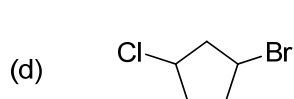
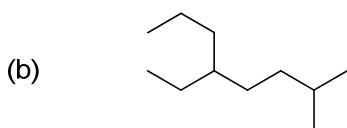
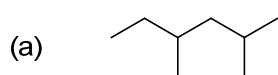
第6回 3章 有機化合物の基礎 その1

予習

(1) 次の化合物を IUPAC 命名法を用いて命名せよ。



(2) 次の化合物を IUPAC 命名法を用いて命名せよ。



(3) 次のグループの中で、沸点が高いのはそれぞれ どちらの化合物か。

