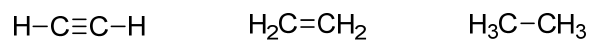


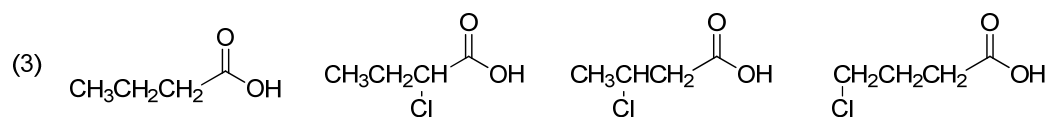
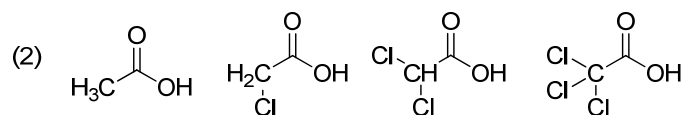
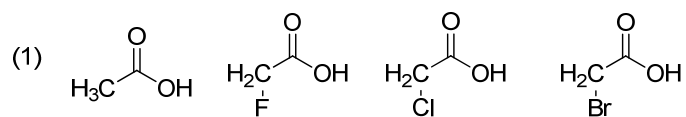
第4回 2章 酸と塩基 その2

予習

(1) 次の炭化水素のうちで最も強い酸はどれか。



(2) 次の(1)、(2) および(3) で示される4つのカルボン酸のうちで最も強い酸はどれか。



(3) アルコールとカルボン酸では、どちらの方がより強い酸か。

