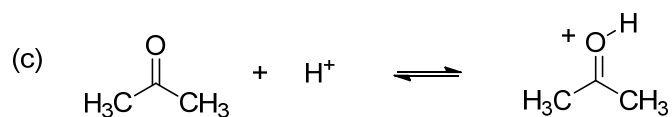





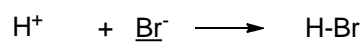
第3回 2章 酸と塩基

予習

(1) 次の反応の酸と塩基を記せ。



(2) 次の反応で強い塩基性あるいは強い酸性を示すのは下線を引いたイオンおよび化合物のうち どちらか。



(3) 次の反応の酸と塩基を記せ。

