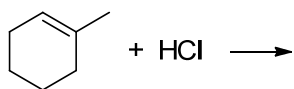
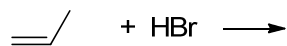


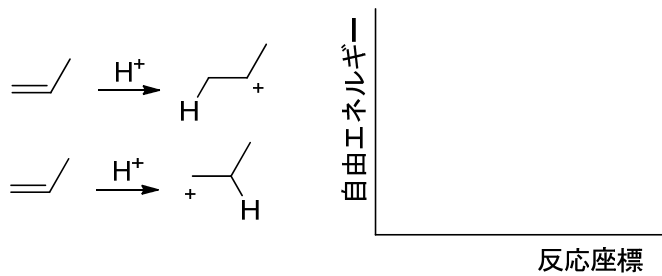
第13回 6章 アルケンおよびアルキンの反応 その1

予習

(1) 次の反応の生成物を記し、メカニズムを説明せよ。



(2) 次のカチオンが生成する過程の反応座標図を完成せよ。



(3) 次の反応の生成物を記し、メカニズムを説明せよ。

