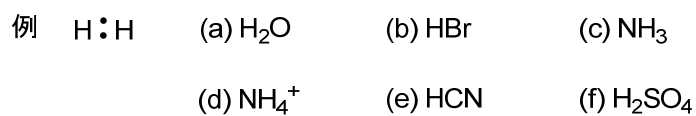




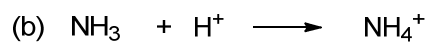
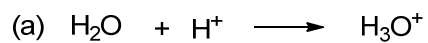
第1回 1章 電子構造と結合 その1

予習

(1) 次の化合物に含まれる原子がオクテット則を満たすように例にならって最外殻電子をドットで記せ。



(2) 次の反応の電子の動きを矢印で記せ。



(3) メタンを例に、 sp^3 混成軌道を説明せよ。