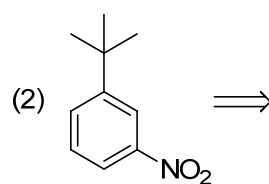
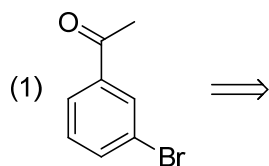
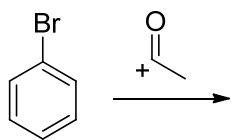


Chapter 5-2

(1) ベンゼンを原料に用いた逆合成を記せ。



(2) 次の反応を例にハロゲンが不活性基でありながら、*o,p* 配向を示すメカニズムを説明せよ。



(3) ベンゼンを原料に用いた逆合成を記せ。

