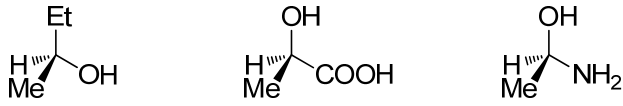
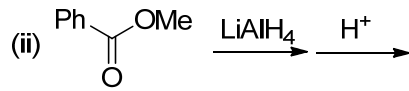
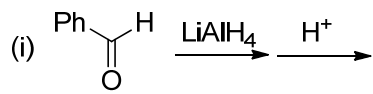


Chapter 5-1

(1) 次のエナンチオマー（鏡像異性体）の立体を（R）、（S）で表記せよ。



(2) 次の反応のメカニズムを記せ。



(3) 次の反応の合成ルートを記せ。

